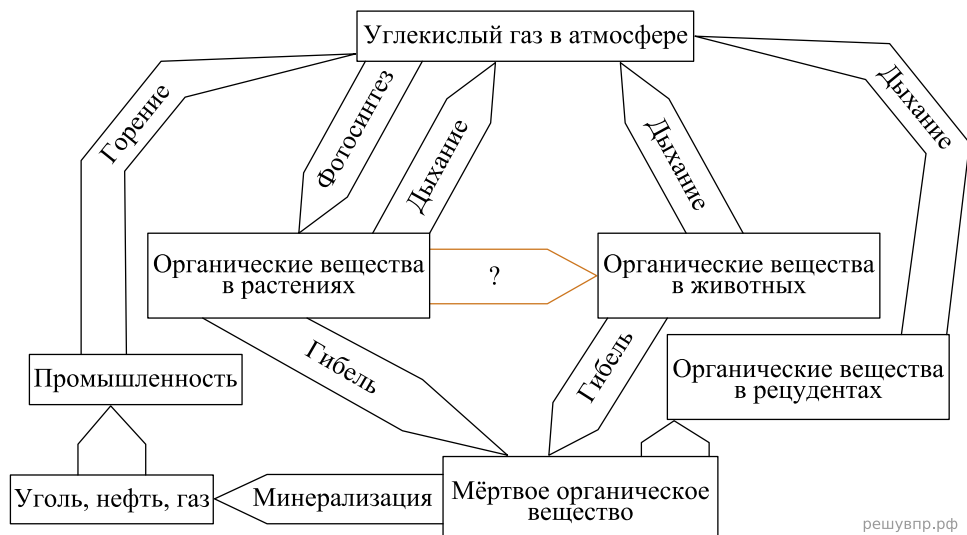
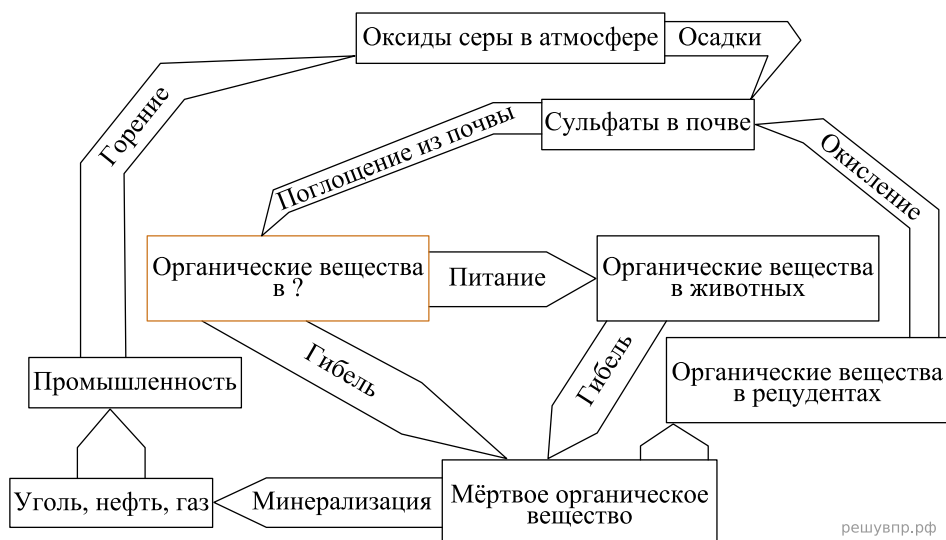


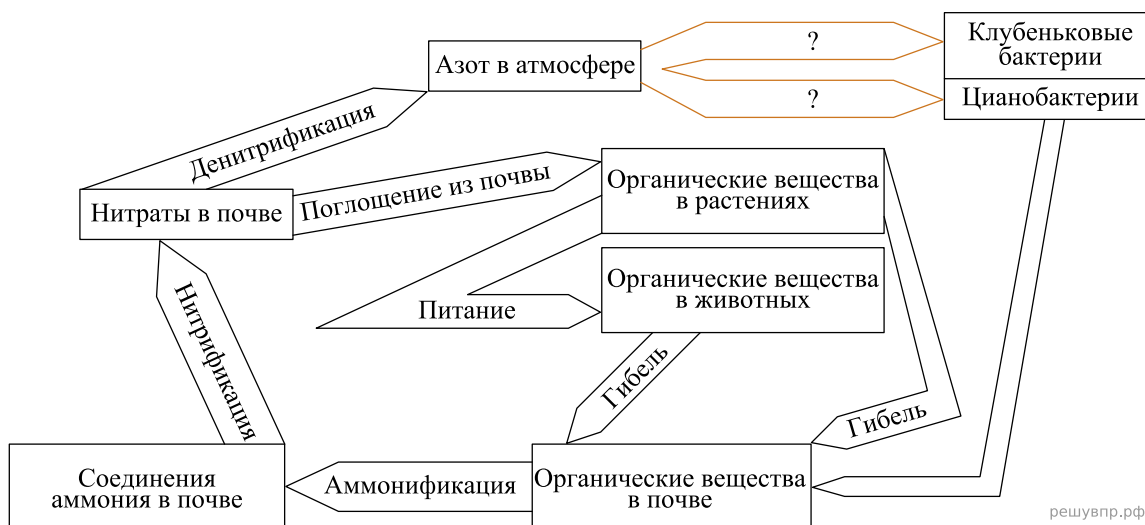
1. Рассмотрите рисунок, на котором представлена схема круговорота углерода в природе. Название какого процесса должно быть написано на месте вопросительного знака?



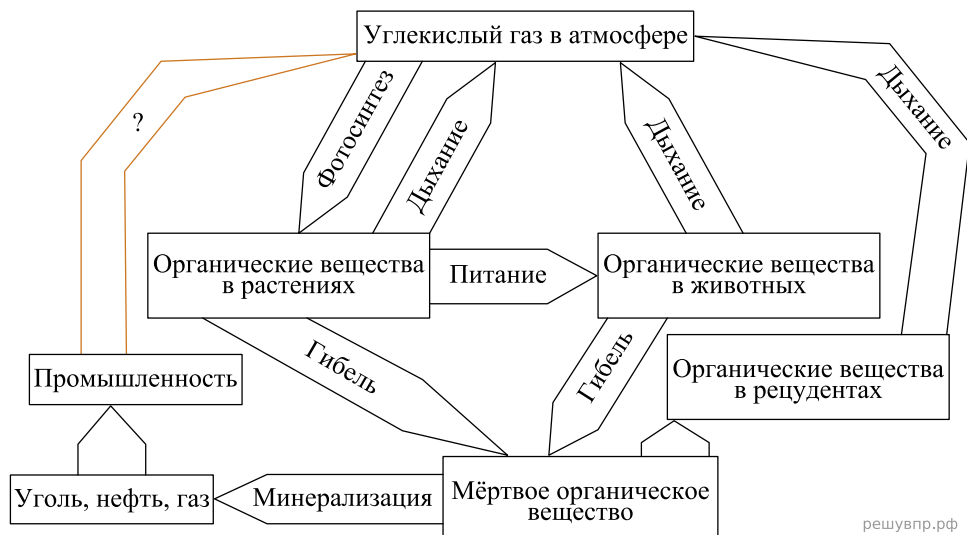
2. Рассмотрите рисунок, на котором представлена схема круговорота серы в природе. Название какой группы организмов должно быть написано на месте вопросительного знака?



3. Рассмотрите рисунок, на котором представлена схема круговорота азота в природе. Название какого процесса должно быть написано на месте вопросительного знака?

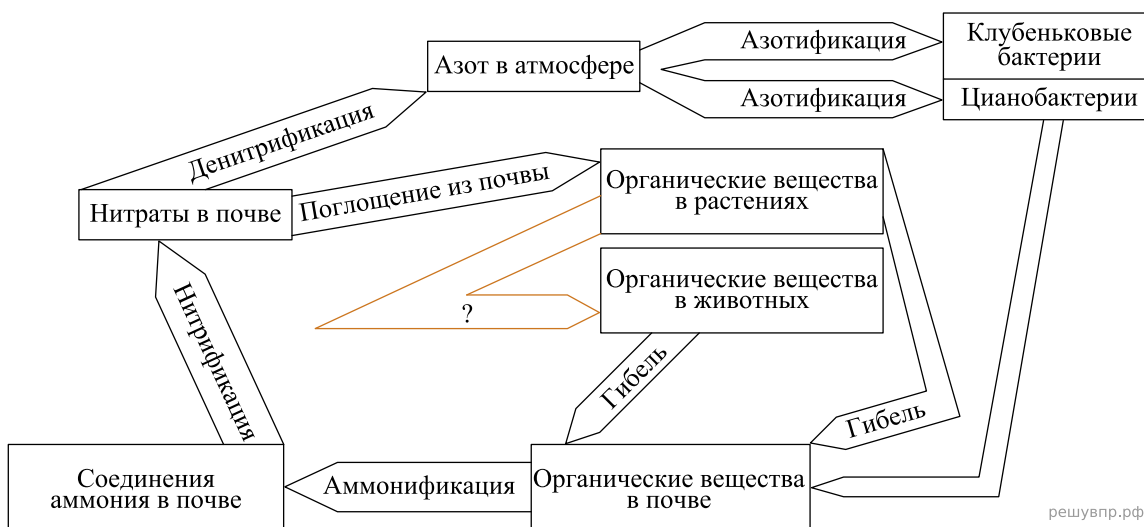


4. Рассмотрите рисунок, на котором представлена схема круговорота углерода в природе. Название какого процесса должно быть написано на месте вопросительного знака?



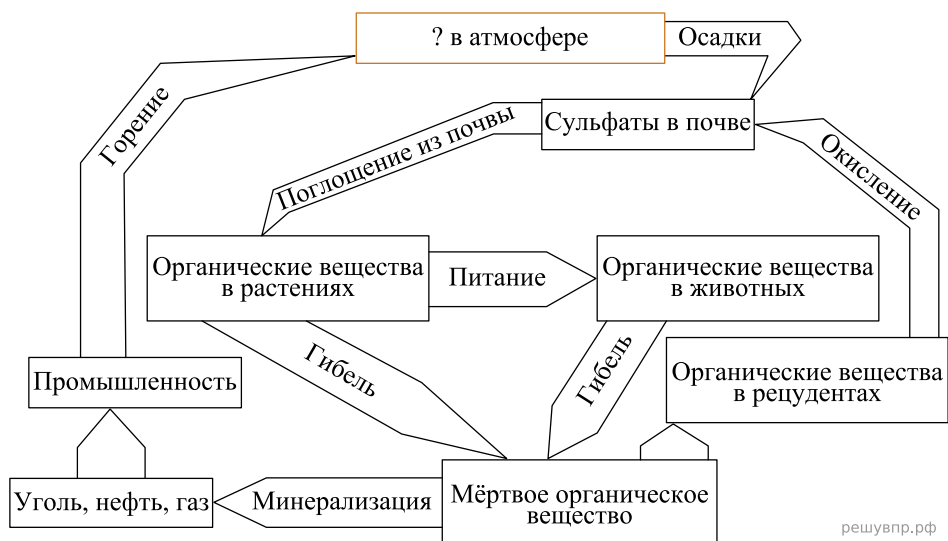
решувпр.рф

5. Рассмотрите рисунок, на котором представлена схема круговорота азота в природе. Название какого процесса должно быть написано на месте вопросительного знака?



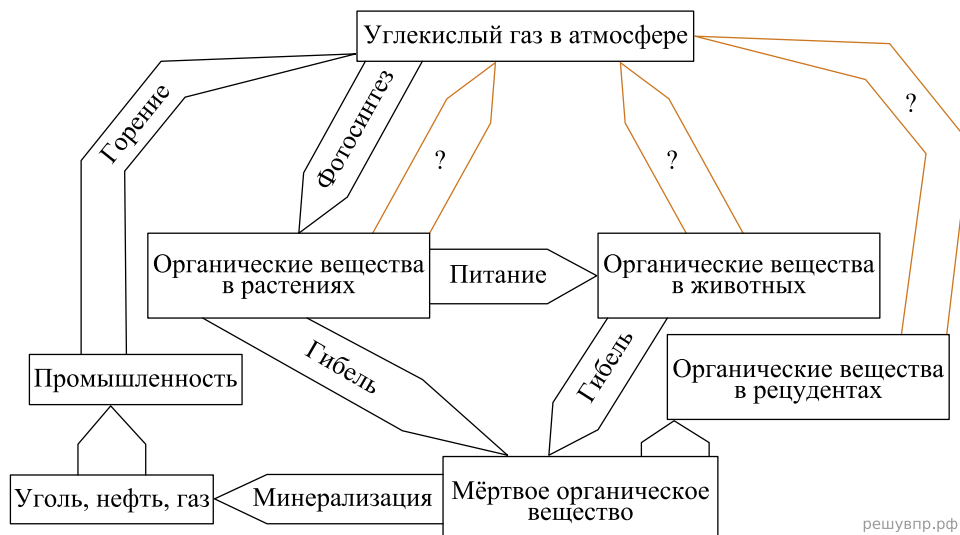
решувпр.рф

6. Рассмотрите рисунок, на котором представлена схема круговорота серы в природе. Название какого вещества должно быть написано на месте вопросительного знака?



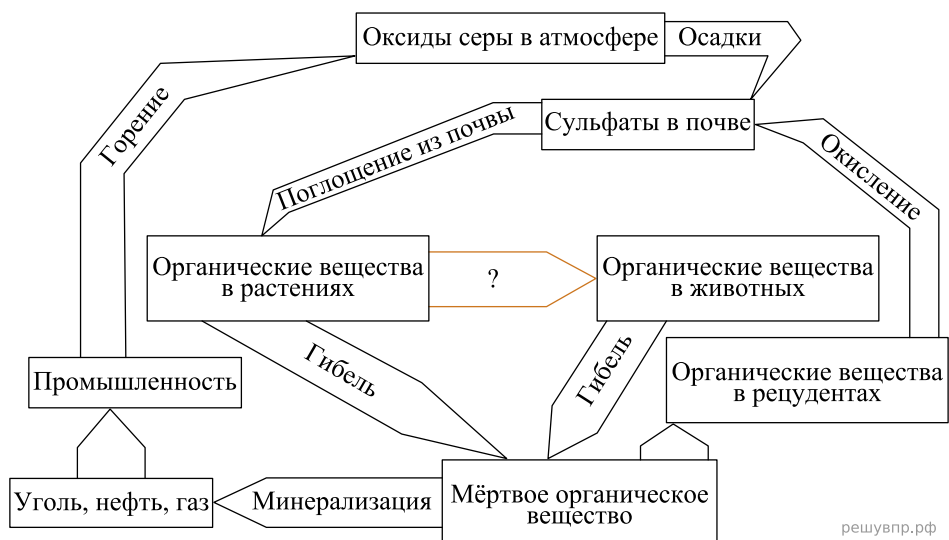
решувпр.рф

7. Рассмотрите рисунок, на котором представлена схема круговорота углерода в природе. Название какого процесса должно быть написано на месте вопросительного знака?



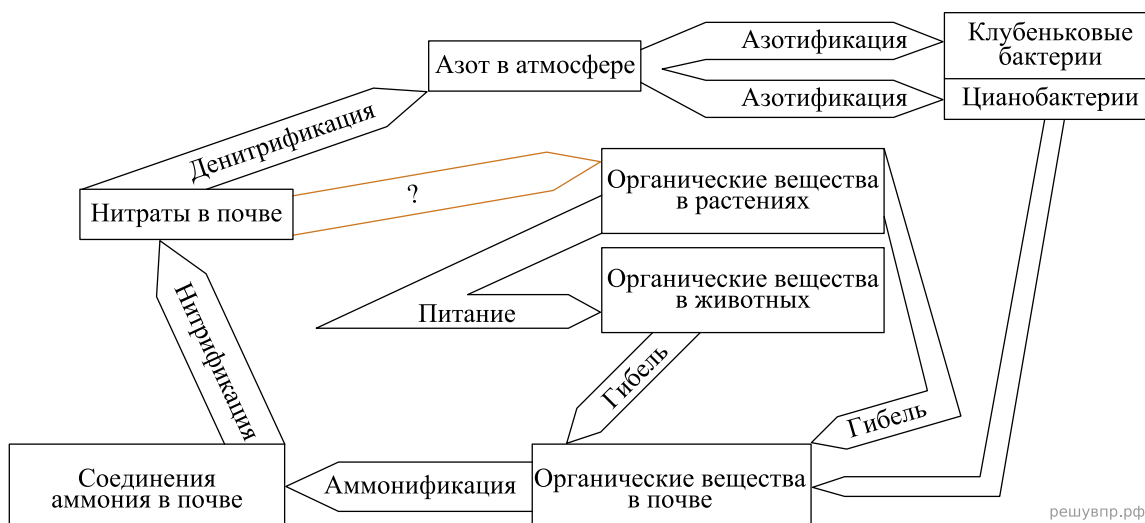
решувпр.рф

8. Рассмотрите рисунок, на котором представлена схема круговорота серы в природе. Название какого процесса должно быть написано на месте вопросительного знака?



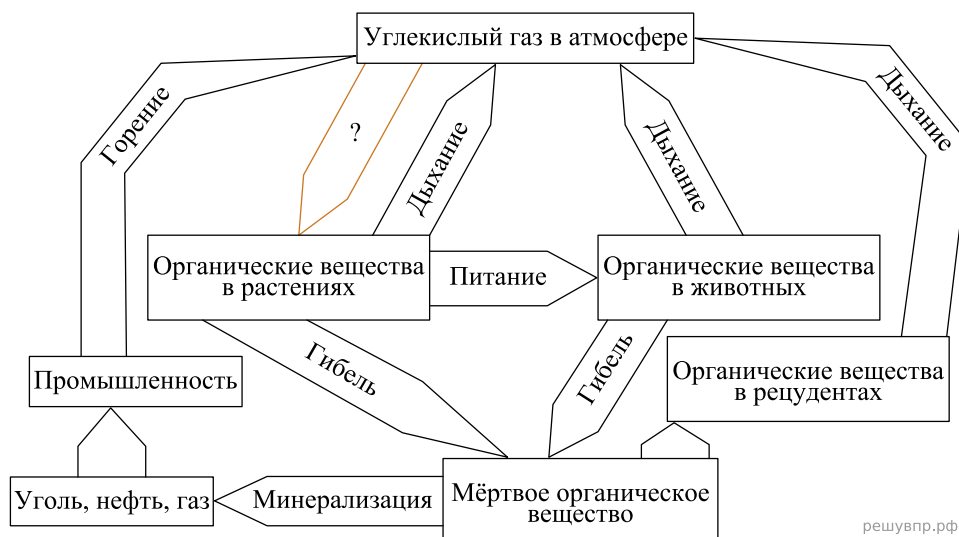
решувпр.рф

9. Рассмотрите рисунок, на котором представлена схема круговорота азота в природе. Название какого процесса должно быть написано на месте вопросительного знака?



решувпр.рф

10. Рассмотрите рисунок, на котором представлена схема круговорота углерода в природе. Название какого процесса должно быть написано на месте вопросительного знака?



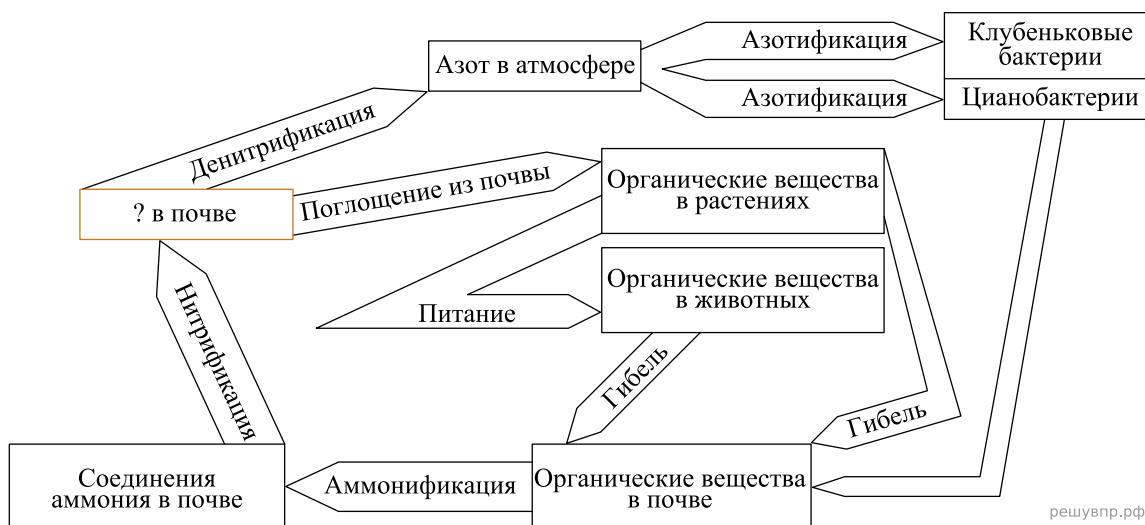
решувпр.рф

11. Рассмотрите рисунок, на котором представлена схема круговорота серы в природе. Название какого вещества должно быть написано на месте вопросительного знака?



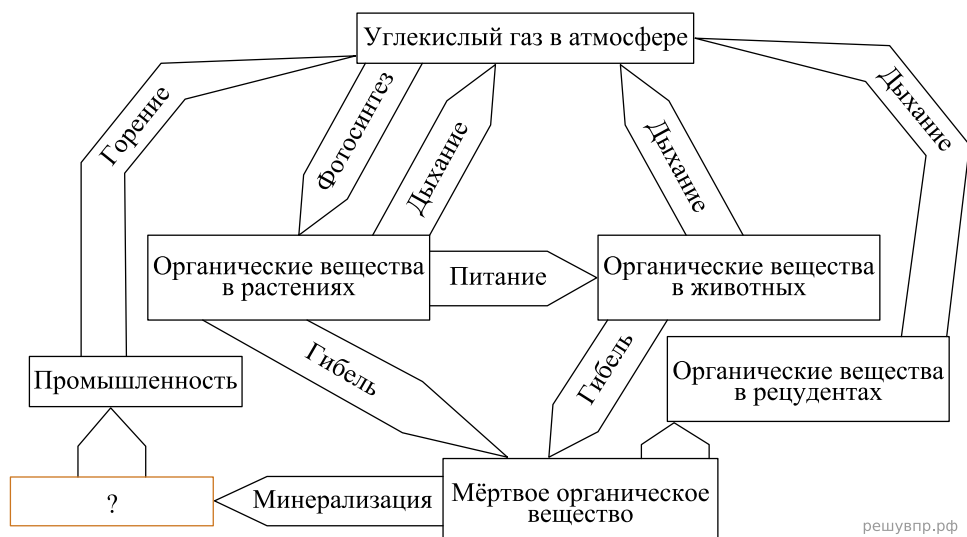
решувпр.рф

12. Рассмотрите рисунок, на котором представлена схема круговорота азота в природе. Название какого вещества должно быть написано на месте вопросительного знака?



решувпр.рф

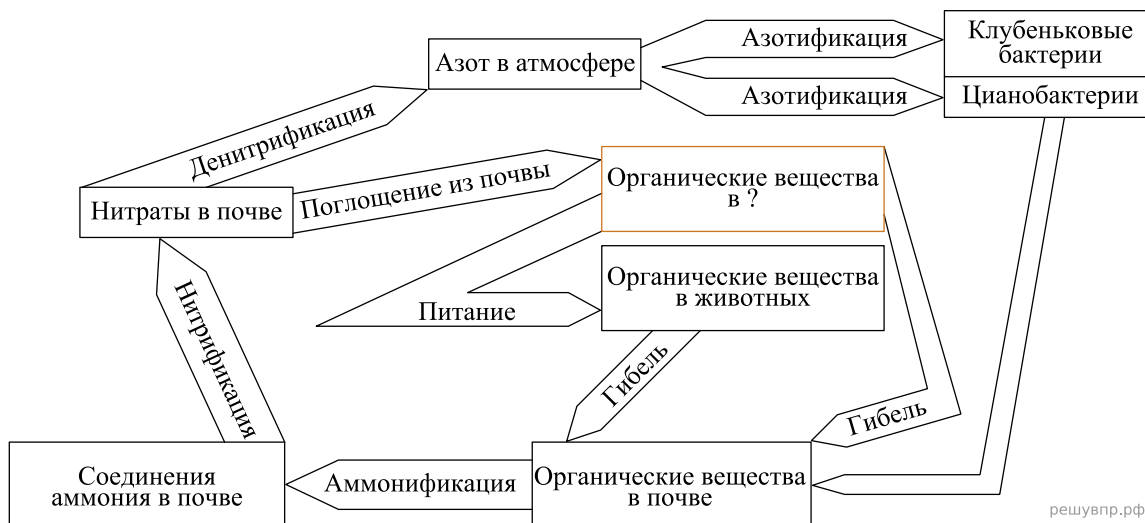
13. Рассмотрите рисунок, на котором представлена схема круговорота углерода в природе. Название какого вещества должно быть написано на месте вопросительного знака?



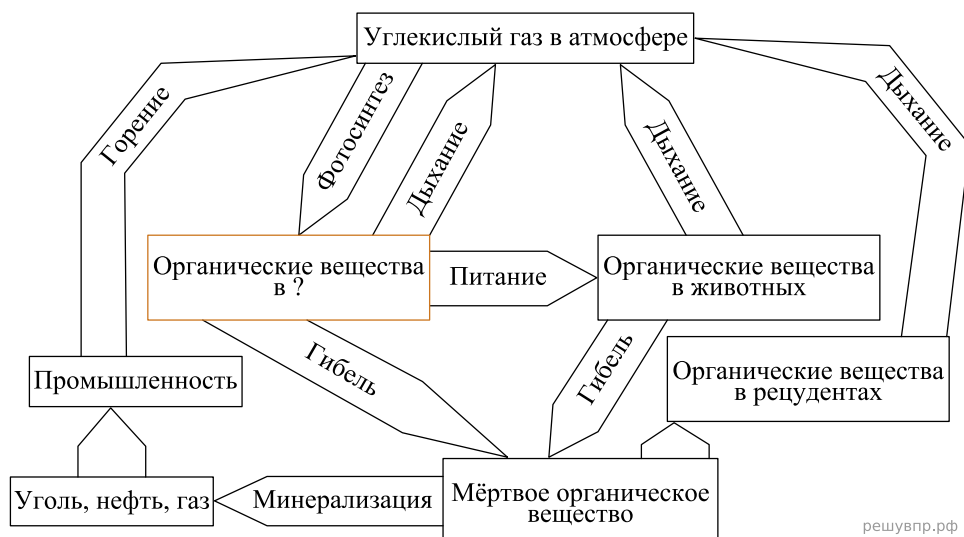
14. Рассмотрите рисунок, на котором представлена схема круговорота серы в природе. Название какого процесса должно быть написано на месте вопросительного знака?



15. Рассмотрите рисунок, на котором представлена схема круговорота азота в природе. Название какой группы организмов должно быть написано на месте вопросительного знака?

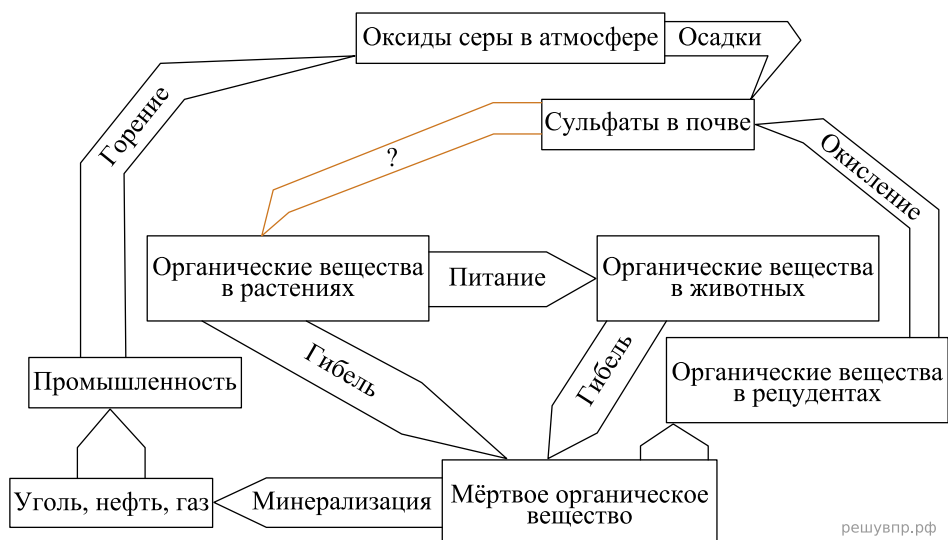


16. Рассмотрите рисунок, на котором представлена схема круговорота углерода в природе. Название какой группы организмов должно быть написано на месте вопросительного знака?



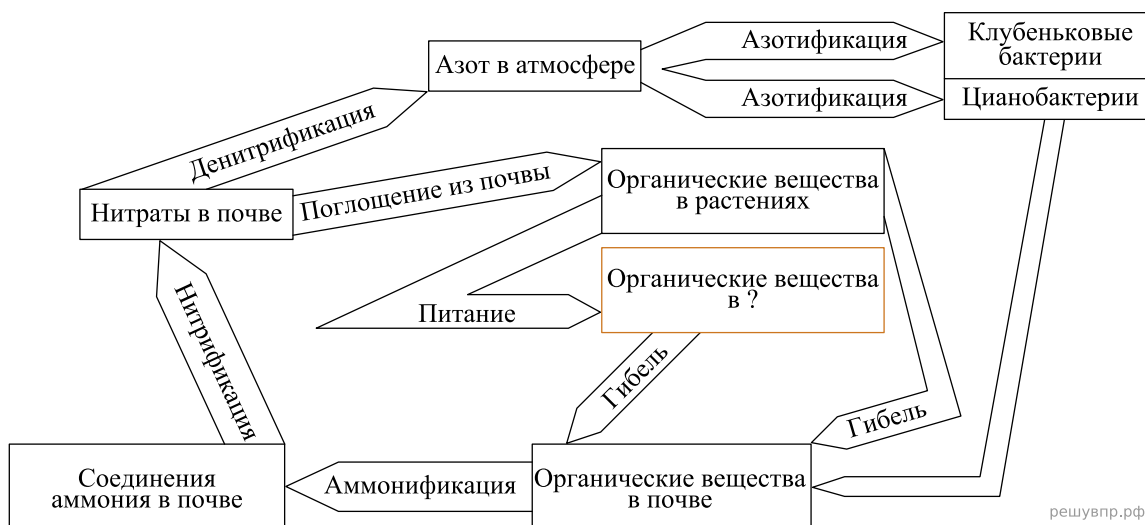
решувпр.рф

17. Рассмотрите рисунок, на котором представлена схема круговорота серы в природе. Название какого процесса должно быть написано на месте вопросительного знака?



решувпр.рф

18. Рассмотрите рисунок, на котором представлена схема круговорота азота в природе. Название какой группы организмов должно быть написано на месте вопросительного знака?



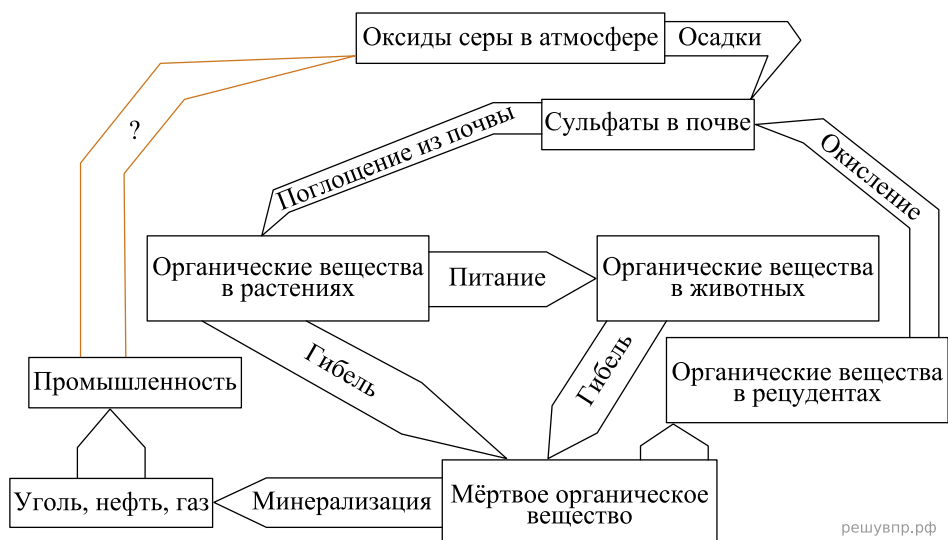
решувпр.рф

19. Рассмотрите рисунок, на котором представлена схема круговорота углерода в природе. Название какой группы организмов должно быть написано на месте вопросительного знака?



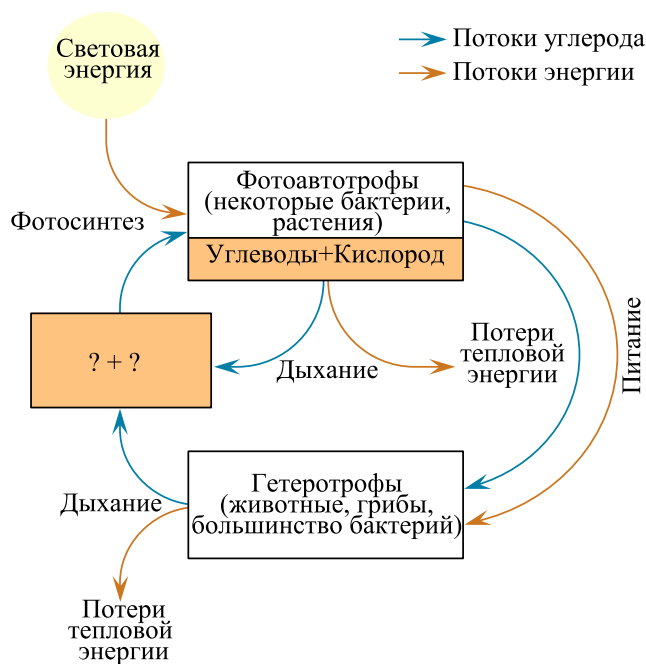
решувпр.рф

20. Рассмотрите рисунок, на котором представлена схема круговорота серы в природе. Название какого процесса должно быть написано на месте вопросительного знака?



решувпр.рф

21. Рассмотрите рисунок, на котором представлена схема круговорота углерода в природе. Названия каких веществ обозначены на схеме вопросительными знаками?

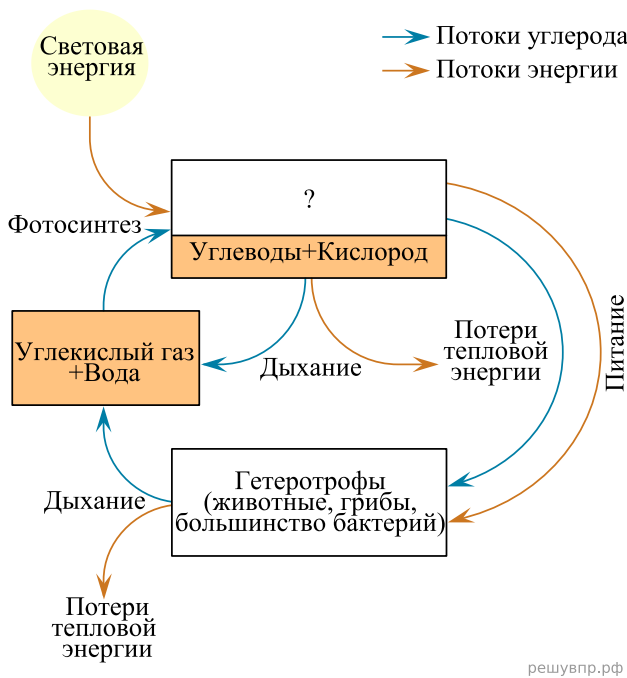


решувпр.рф

22. Рассмотрите рисунок, на котором представлена схема круговорота углерода в природе. Название какого процесса обозначено на схеме вопросительным знаком?



23. Рассмотрите рисунок, на котором представлена схема круговорота углерода в природе. Название какой группы организмов по типу питания обозначено на схеме вопросительным знаком?



24. Рассмотрите рисунок, на котором представлена схема круговорота углерода в природе. Название какой группы организмов по типу питания обозначено на схеме вопросительным знаком?



25. Рассмотрите рисунок, на котором представлена схема круговорота углерода в природе. Название какого процесса обозначено на схеме вопросительным знаком?

